


一、看圖填填看：每格 2 分，共 12 分

- (1) 這條緞帶被平分成 () 段，塗色部分是其中的 () 段，用小數表示是 () 條。



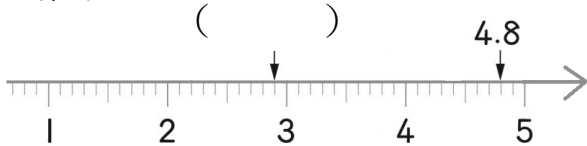
- (2) 這張色紙被平分成 () 份，塗色部分是其中的 () 份，用小數表示是 () 張。



二、在數線上做做看，並寫出算式：

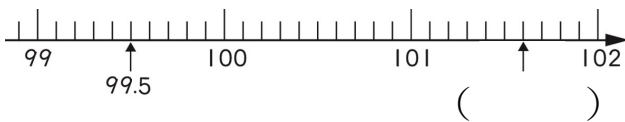
每題 3 分，共 6 分

- (1) 將 4.8 往左移 19 小格，會停在哪一個數？



算式：

- (2) 將 99.5 往右移 21 小格，會停在哪一個數？



算式：

三、在 \square 中填入 $>$ 、 $<$ 或 $=$ ：每題 2 分，共 8 分

- (1) $5.28 \square 5.82$ (2) $1.99 \square 1.09$
 (3) $7.7 \square 7.70$ (4) $8.49 \square 8.5$

四、填填看：每格 2 分，共 24 分

- (1) $1 \text{ 公尺} = 100 \text{ 公分}$ ，
 $2.36 \text{ 公尺} = () \text{ 公分}$
 $= () \text{ 公尺} () \text{ 公分}$
 (2) 一個數的百分位數字是 9、十分位數字是 0、個位數字是 5，這個數是 ()，也就是 () 個 0.01。
 (3) 1 個 1 和 () 個 0.01 一樣大。
 (4) 2.15 和 2.18 之間，有哪些二位小數？
 ()、()
 (5) 68.47 的十位數字是 ()，個位數字是 ()，十分位數字是 ()，百分位數字是 ()。

五、用直式算算看：每題 3 分，共 18 分

- (1) $5.12 + 6.58$ (2) $2.47 + 7.6$
 $= ()$ $= ()$
 (3) $10.14 + 2.68$ (4) $20.05 - 15.98$
 $= ()$ $= ()$
 (5) $37.4 - 12.28$ (6) $100 - 37.63$
 $= ()$ $= ()$

六、把做法用算式記下來：每題4分，共32分

(1) 立定跳遠，祐銘第一次跳了1.81公尺，第二次比第一次多跳了0.19公尺，祐銘第二次跳了幾公尺？

(2) 飲料店上午賣了10.52公升的奶茶，下午比上午少賣出3.95公升，飲料店下午賣了幾公升的奶茶？

(3) 一條繩子長15公尺，包裝東西用掉一些後，還剩下3.79公尺，用掉的繩子有幾公尺？

(4) 媽媽買了一瓶1.25公升的可樂，銘喝掉0.5公升，還剩下幾公升？

(5) 哥哥去年的身高是165.5公分，今年的身高比去年增加了8.7公分，哥哥今年的身高是幾公分？

(6) 藍緞帶跟紅緞帶合起來是4.35公尺，藍緞帶長1.87公尺，紅緞帶長幾公尺？

(7) 媽媽買了水蜜桃和蘋果，水蜜桃重2.08公斤，蘋果比水蜜桃重0.75公斤，媽媽買的蘋果重幾公斤？

(8) 1條鐵絲長30.5公尺，爸爸搭鐵架用掉179公分後，剩下幾公尺的鐵絲？